



L'ispettore



Aiuta l'ispettore a risolvere il caso misterioso e scopri chi dice la verità.



Perché ci sono
4 bicchieri
di cedrata?



Anche se eravamo in 6, solo
2 di noi ne hanno ordinato un
bicchiere.


Eravamo in 4 e avevamo così
tanta sete che abbiamo deciso
di ordinarne 2 bicchieri a testa.



Perché quel signore ha pagato
8 euro e ogni bicchiere ne
costava 2.




Aiuta l'ispettore a risolvere il caso misterioso e scopri chi dice la verità.



Perché qui ci sono 9 fette di cocomero?



Perché ognuno di quei 6 bambini ne ha portate 3 e poi le mangeranno insieme.




Perché di 10 fette 3 sono state mangiate dai miei amici in spiaggia.



3 amiche ne hanno portate 3 fette ciascuna e le mangeranno dopo pranzo.



Aiuta l'ispettore a risolvere il caso misterioso e scopri chi dice la verità.



Perché mai qui
ci sono 5 belle
pannocchie
croccanti?



Perché 10 erano troppe così
ne ho prese solo la metà.



Perché prima erano 7 poi
è arrivato Nello e ne ha
mangiate 3.



Perché ognuno di noi 3 ne
ha portate 2 poi le abbiamo
messe lì sopra.



Aiuta l'ispettore a risolvere il caso misterioso e scopri chi dice la verità.



Perché per ogni sacchetto aperto ce ne sono 2 chiusi.




Perché per ogni sacchetto chiuso ce ne sono 2 aperti.



Perché ogni 2 sacchetti aperti ce ne sono 2 chiusi.



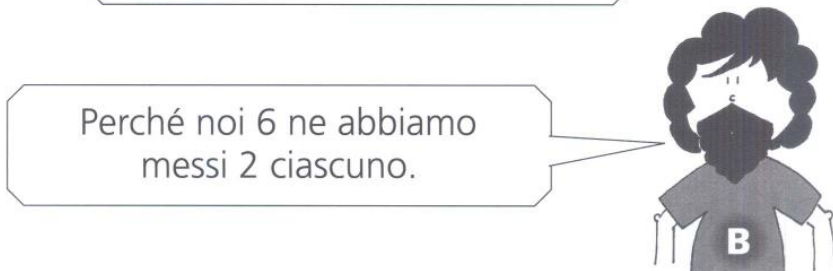
Aiuta l'ispettore a risolvere il caso misterioso e scopri chi dice la verità.



Perché mai qualcuno ha lasciato 12 salami in cantina?



Perché 6 c'erano già poi è arrivato Alvaro che ne ha portati altri 12.





Perché noi 6 ne abbiamo messi 2 ciascuno.




Perché 6 erano troppo pochi così ne abbiamo lasciati solo la metà.



Aiuta l'ispettore a risolvere il caso misterioso e scopri chi dice la verità.




Come mai ci sono 2 furgoni davanti a quella casa?



Perché 4 furgoni dovevano fare in tutto 3 consegne, così gli autisti hanno deciso di dividersi le merci.



Perché sono state ordinate 10 tonnellate di marmo e un furgone può caricarne solo 5.



Dalla fabbrica ne erano partiti 4 per fare le consegne, ma uno di questi ha avuto un guasto al motore.



Aiuta l'ispettore a risolvere il caso misterioso e scopri chi dice la verità.



Come mai sul prato ci sono 3 cestini?



Li hanno dimenticati dei bambini. Erano arrivati con 7 cestini in tutto ma ne hanno riportati via solo 3.


Perché i panini preparati erano 21 e ogni cestino poteva contenerne solo 7.



Sono quelli che l'orso è riuscito a rubare ai 3 visitatori del parco, infatti, ognuno di loro ne aveva portati 3.



Aiuta l'ispettore a risolvere il caso misterioso e scopri chi dice la verità.



Perché ci sono
18 fragole?



Perché vorrei servire ai miei amici 3 porzioni da 6 fragole ciascuna.


Prima ne avevo comprate 9 ma non bastavano per fare la crostata che mi piace tanto così ne ho prese altre 8.




Perché tutti e 4 i miei cugini andando nel bosco sono riusciti a trovarne 4 ciascuno e me le hanno regalate.



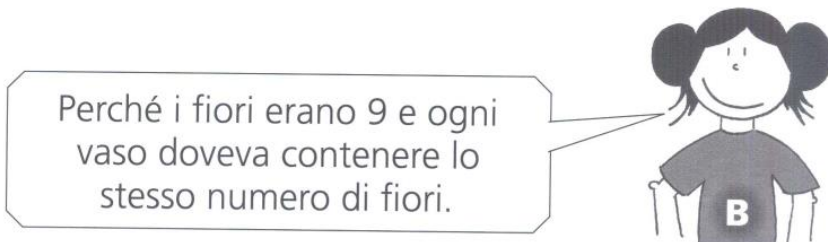
Aiuta l'ispettore a risolvere il caso misterioso e scopri chi dice la verità.



Perché tutti questi fiori sono stati messi dentro 3 vasi?



Perché i 3 fiori raccolti sul prato sono stati messi dentro 3 vasi.




Perché i fiori erano 9 e ogni vaso doveva contenere lo stesso numero di fiori.




Perché per ognuno dei 9 fiori è stato usato un vaso.



Aiuta l'ispettore a risolvere il caso misterioso e scopri chi dice la verità.




Sono 15
polpette di riso
vero?



Sì e le abbiamo preparate noi
5, ci siamo divise il lavoro così
ognuna di noi ne ha preparate
5.




Sì, ognuna di noi 3 ne ha
preparate 5.



Sì, io, Graziella e Luisa ne
abbiamo preparate 30 e quella
è la mia parte.



Aiuta l'ispettore a risolvere il caso misterioso e scopri chi dice la verità.



Perché ci sono
12 bicchieri e 3
bottiglie?



Perché ogni bottiglia può riempire 12 bicchieri così ne ho prese 3.

Perché con tutte e 3 le bottiglie si possono riempire 4 bicchieri.



Perché ognuna delle 3 bottiglie poteva riempire 4 bicchieri.